

Quer durch die 1. Klasse

Mathe und Deutsch



*gemeinsam
wachsen lernen*

hauskaverlag

Dieser Block gehört:

(Dein Name)

Mathe

| | |
|--|--------|
| Muster | 1 |
| Zahlen und rechnen bis 10 | 2-12 |
| Mengen vergleichen | 7 |
| Kombinatorik | 8 |
| Zahlen und rechnen bis 20 | 13-38 |
| Farb-Sudoku | 14 |
| Geometrische Formen | 19, 33 |
| Rechnen mit Geld | 20, 27 |
| Lagebegriffe | 21 |
| Sachrechnen | 22, 32 |
| Uhrzeit | 34 |
| Logikrätsel | 37 |

Deutsch

Grammatik

| | |
|----------------------------|-------|
| Buchstaben und Laute | 39-43 |
| Wortarten | 44-49 |
| Sätze | 50 |
| Silben und Vokale | 51-53 |
| Lesen | 54-63 |

Rechtschreibung

| | |
|------------------------------|-------|
| Endungen -el, -en, -er | 64 |
| St, Sp, Qu, x, V | 65-67 |
| Harte und weiche Laute | 68 |
| ä und äu | 69 |
| Buchstabenrätsel | 70 |

Schreiben

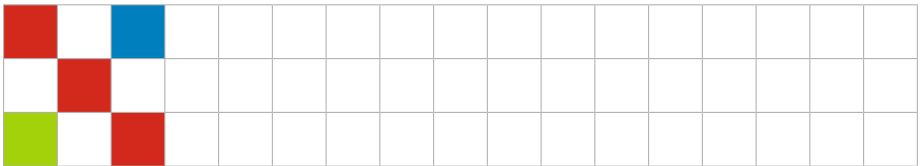
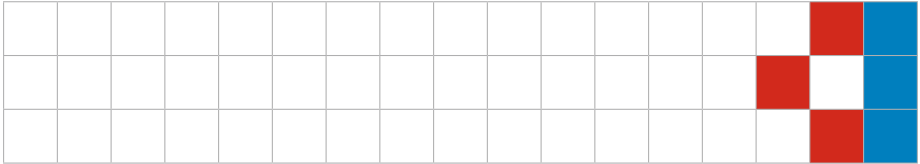
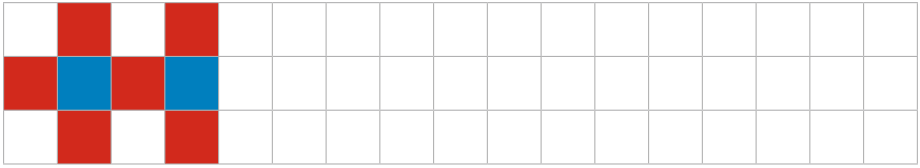
| | |
|---------------------------|----|
| Nachricht schreiben | 71 |
| Bildergeschichte | 72 |

| | |
|-----------------------|-------|
| Lösungen | 73-80 |
|-----------------------|-------|

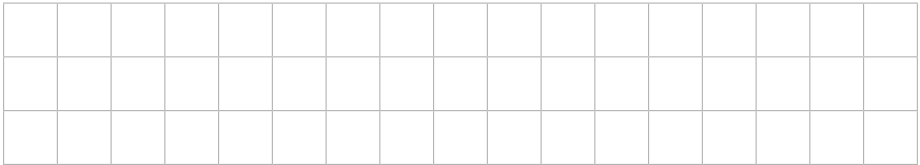


Ich heiÙe Anton.
Ich begleite dich in
diesem Block und
gebe dir Tipps.

► Setze die Muster fort!


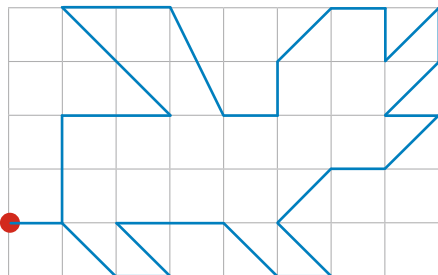


► Erfinde ein eigenes Muster!

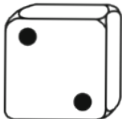
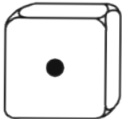




► Zeichne das Muster nach!

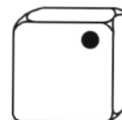
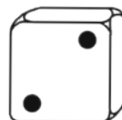
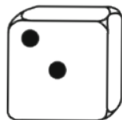
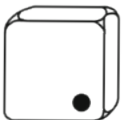
Mit dem Lineal geht es besser.
Zähle die Kästchen beim Malen!




► Zähle die Zootiere und verbinde mit den Würfeln!
Schreibe die Zahlen unter die Würfel!




► Male die Würfel so fertig, dass **vier verschiedene** Seiten entstehen!



► Ergänze die Zahlen der Reihe nach!



► Schreibe die fehlenden Zahlen in die Burg!



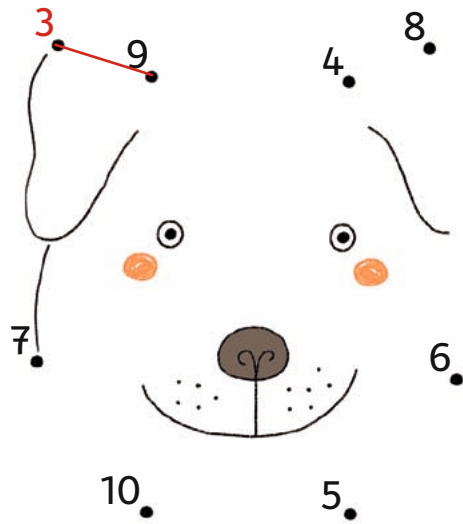


► Welche Würfelseite ist jeweils hinten? Male den richtigen Würfel an!

| | | | |
|--|--|--|--|
| | | | |
| | | | |
| | | | |
| | | | |

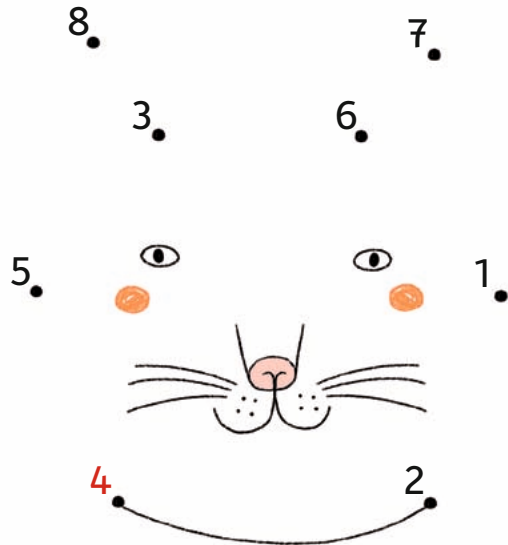
► Löse die Rechnungen und verbinde im Bild die Ergebnisse der Reihe nach!

| | | | | |
|---|---|---|---|--|
| 1 | + | 2 | = | |
| 3 | + | 6 | = | |
| 1 | + | 3 | = | |
| 6 | + | 2 | = | |
| 4 | + | 2 | = | |
| 2 | + | 3 | = | |
| 7 | + | 3 | = | |
| 2 | + | 5 | = | |



► Jetzt rechne minus!

| | | | | |
|---|---|---|---|--|
| 7 | - | 3 | = | |
| 9 | - | 4 | = | |
| 8 | - | 0 | = | |
| 6 | - | 3 | = | |
| 8 | - | 2 | = | |
| 9 | - | 2 | = | |
| 6 | - | 5 | = | |
| 9 | - | 7 | = | |



- Jede Form steht für eine Zahl. Aber für welche? Rechne und schreibe die richtigen Zahlen in die jeweiligen Formen!

$$\triangle_1 + \triangle = \bigcirc$$

$$\triangle + \bigcirc = \square$$

$$\star - \triangle = \square$$

$$\star + \bigcirc = \nabla$$

$$\square - \bigcirc = \square$$

Lösung:

